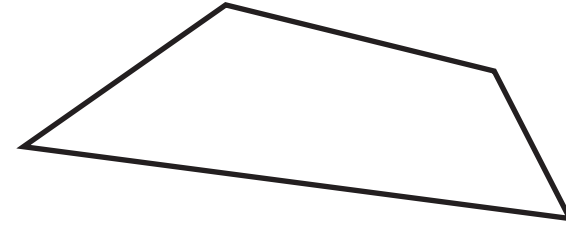


Name: unregelmäßiges Viereck

Anzahl der Seiten: ____ Anzahl der rechten Winkel: ____

Anzahl der Ecken: ____ Anzahl der parallelen Seiten: ____

gleich lange Seiten: ____

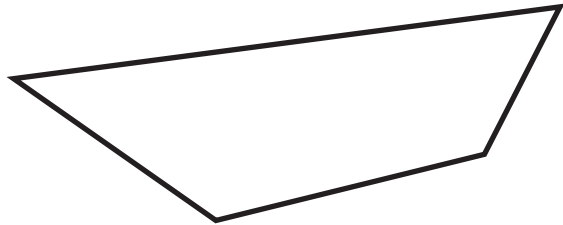


Name: unregelmäßiges Viereck

Anzahl der Seiten: ____ Anzahl der rechten Winkel: ____

Anzahl der Ecken: ____ Anzahl der parallelen Seiten: ____

gleich lange Seiten: ____

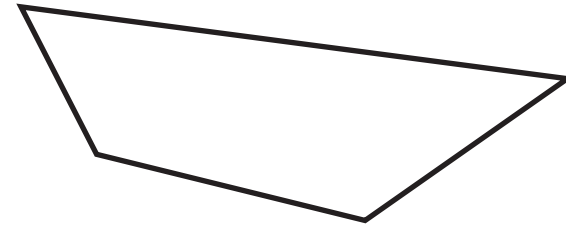


Name: unregelmäßiges Viereck

Anzahl der Seiten: ____ Anzahl der rechten Winkel: ____

Anzahl der Ecken: ____ Anzahl der parallelen Seiten: ____

gleich lange Seiten: ____



Name: unregelmäßiges Viereck

Anzahl der Seiten: ____ Anzahl der rechten Winkel: ____

Anzahl der Ecken: ____ Anzahl der parallelen Seiten: ____

gleich lange Seiten: ____

Beschreibung des Vierecks: _____

von: _____

Beschreibung des Vierecks: _____

von: _____

Beschreibung des Vierecks: _____

von: _____

Beschreibung des Vierecks: _____

von: _____